




LANCE LA BALLE, CHARLIE BROWN!

Charlie Brown et sa bande viennent juste de terminer de jouer un match de baseball. Pouvez-vous deviner s'ils ont gagné? Regardez le tableau, puis répondez aux questions ci-dessous.

Joueur	Balles	Prises	Coups
 CHARLIE BROWN	5	9	0
 SNOOPY	4	5	2
 LUCY	7	6	1

Combien de coups Charlie Brown, Lucy, et Snoopy ont-ils marqués au total? _____

Combien de balles en plus Lucy a-t-elle marquées par rapport à Charlie Brown? _____

Combien de prises Snoopy et Charlie Brown ont-ils marquées au total? _____

Combien de prises en plus par rapport aux balles Charlie Brown a-t-il marquées?
 Écrivez la phrase mathématique :

CÉLÉBREZ LE PRINTEMPS AVEC LA BANDE DE PEANUTS!
 Regardez *It's the Easter Beagle, Charlie Brown!* sur le réseau ABC.
 Consultez votre guide de télévision local pour connaître l'heure de diffusion.
 Et ne manquez pas le film de *Peanuts* au cinéma cet automne!

